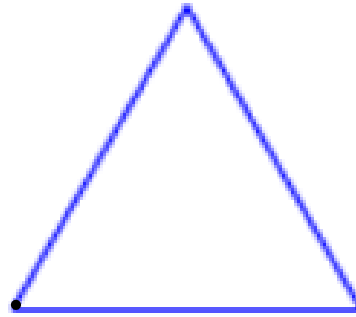


月 日 ()

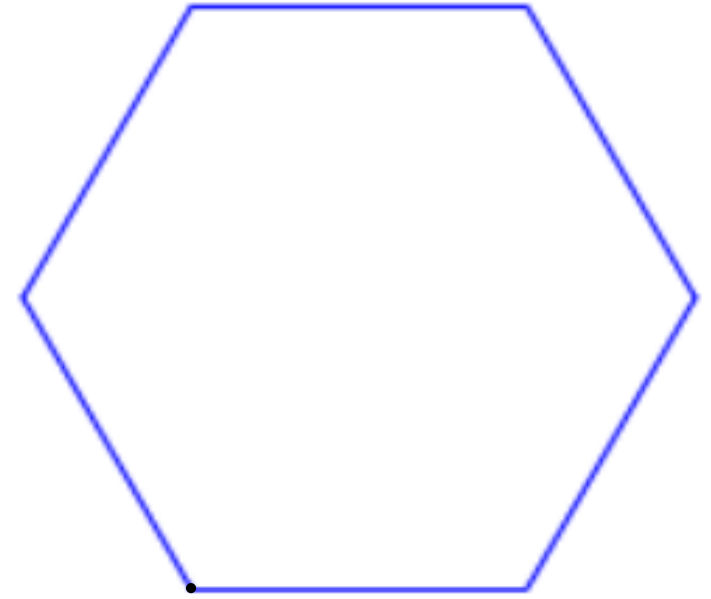
正方形



正三角形



正六角形



ペンを下ろす

● 回繰り返す

● 歩動かす

↶ ● 度回す



ペンを下ろす

● 回繰り返す

● 歩動かす

↶ ● 度回す



ペンを下ろす

● 回繰り返す

● 歩動かす

↶ ● 度回す



ペンを下ろす

● 回繰り返す

● 歩動かす

↶ ● 度回す



ペンを下ろす

● 回繰り返す

● 歩動かす

↶ ● 度回す



ペンを下ろす

● 回繰り返す

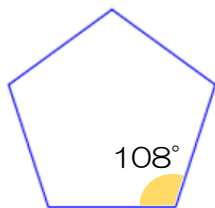
● 歩動かす

↶ ● 度回す

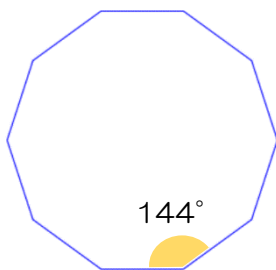


★スクラッチを使って、次の正多角形をかいてみよう。

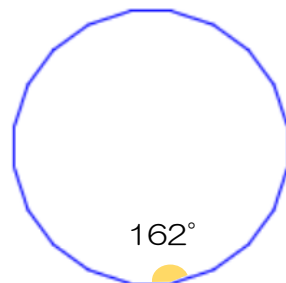
①正五角形



②正十角形



③正二十角形



学習感想

正多角形	角の大きさ (度)
正五角形	108
正八角形	135
正九角形	140
正十角形	144
正十二角形	150
正十五角形	156

正多角形	角の大きさ (度)
正十八角形	160
正二十角形	162
正二十四角形	165
正三十角形	168
正三十六角形	170